

Tasques Termodinàmica curs 2020-2021

Adrià Vilanova Martínez

Tardor 2020

Tasca 1. En 1 mm^3 d'aigua, quantes mol·lècules hi ha? I quina extensió conté tants grans de sorra com mol·lècules conté la gota d'aigua?

La densitat de l'aigua és $\rho \approx 1\text{ g cm}^{-3}$, i el volum ocupat és $V = 1\text{ mm}^3 = 10^{-3}\text{ cm}^3$. Per tant:

$$m = \rho V = 1\text{ g cm}^{-3} \cdot 10^{-3}\text{ cm}^3 = 10^{-3}\text{ g}$$

La massa molar de l'aigua és $M \approx 18\text{ g mol}^{-1}$ i sabem que en un mol hi ha N_A mol·lècules (on N_A és el nombre d'Avogadro), així que:

$$n = N_A \text{ mol}^{-1} \frac{m}{M} \approx 6.022 \times 10^{23} \text{ mol}^{-1} \frac{10^{-3}\text{ g}}{18\text{ g mol}^{-1}} \approx 3.3 \times 10^{19} \text{ mol·lècules}$$

Com vam acordar a classe, suposarem que la platja té una profunditat de 10 m, i la platja és rectangular amb una amplada de 100 m, i que el volum d'un gra de sorra és d' 1 mm^3 . A més, suposarem també que una gota d'aigua té un volum d' 1 mm^3 .

El volum de la platja en funció de la llargada en metres, x , serà $V_{\text{platja}} = 10 \cdot 100\text{ m}^2 \cdot x = 10^3\text{ m}^2 \cdot x$.

El volum d'un gra de sorra és $V_{\text{gra}} = 1\text{ mm}^3 = 10^{-9}\text{ m}^3$. Per tant, si suposem que tots els grans de sorra ocuparan el volum de la platja sense deixar cap forat, el nombre de grans de sorra serà de

$$n_{\text{grans}} = \frac{V_{\text{platja}}}{V_{\text{gra}}}$$

Com, segons l'enunciat, tenim el mateix nombre de grans de sorra que de mol·lècules en una gota d'aigua, tenim que $n = n_{\text{grans}}$ i, llavors:

$$\begin{aligned} n &= \frac{V_{\text{platja}}}{V_{\text{gra}}} = \frac{10^3\text{ m}^2 \cdot x}{10^{-9}\text{ m}^3} \implies \\ \implies x &= \frac{n V_{\text{gra}}}{10^3\text{ m}^2} = \frac{3.3 \times 10^{19} \cdot 10^{-9}\text{ m}^3}{10^3\text{ m}^2} \approx 33 \times 10^6\text{ m} = 33\,000\text{ km} \end{aligned}$$

Si tinguéssim en compte que entre grans de sorra poden haver forats, la llargada de la platja seria encara més gran que els 33 000 km que hem calculat.

En conclusió, hem pogut observar com el nombre de mol·lècules d'aigua en només 1 mil·límetre és extraordinàriament gran.


Tasca 2. Calculeu els graus de llibertat g que té una proteïna com la barnasa que té un $C_p \approx 1000 \text{ cal mol}^{-1} \text{ K}^{-1}$.

Com hem demostrat a classe, pels gasos ideals $C_V = \frac{g}{2}nR$, on g és el nombre de graus de llibertat. Aleshores, suposant que la barnasa es comportés com un gas ideal, per $n = 1 \text{ mol·lècula}$ tenim:

$$C_V = \frac{g}{2}R \implies g = \frac{2C_V}{R} \approx \frac{2 \cdot 1000 \text{ cal mol}^{-1} \text{ K}^{-1}}{1.987 \text{ cal mol}^{-1} \text{ K}^{-1}} \approx 1007 \text{ graus de llibertat}$$

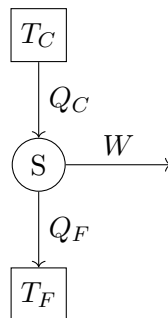
Tasca 3. Expressen en les vostres pròpies paraules $[\neg(\text{CLAUSIUS}) \implies \neg(\text{KELVIN})]$, que és la demostració de $[(\text{KELVIN}) \implies (\text{CLAUSIUS})]$.

Si no es satisfà la hipòtesi de Clausius, això vol dir que en unes condicions concretes existeix una transformació termodinàmica l'únic resultat de la qual és el flux espontani de calor Q d'una font freda a una font calenta.



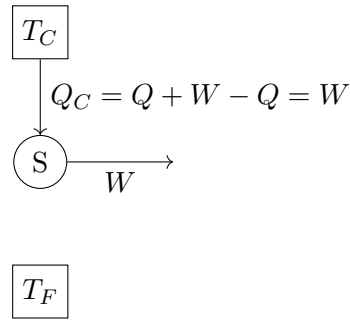
Aleshores, el nostre objectiu és, a partir d'aquest fet, arribar a la conclusió que no se satisfà Kelvin, és a dir, que en certes condicions sigui possible fer una transformació termodinàmica, l'únic resultat de la qual sigui la conversió de la calor Q en treball W .

Definim la següent transformació termodinàmica a partir del Cicle de Carnot:



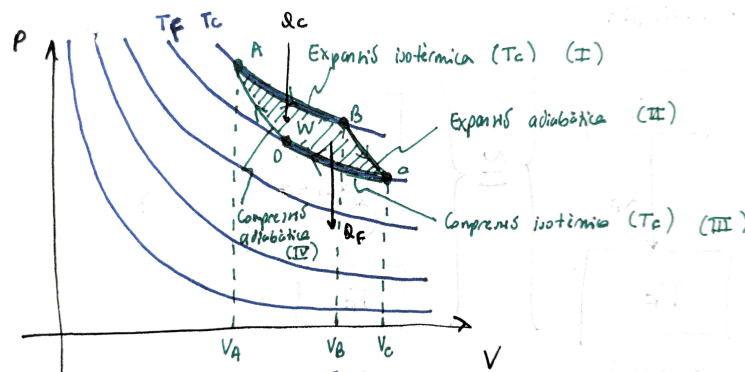
On convenim que $Q_F = Q$ i, per tant, $Q_C = Q + W$.

Si realitzem les dues transformacions termodinàmiques anteriors alhora, el resultat serà que estem realitzant la següent transformació termodinàmica:



I aquesta transformació termodinàmica compleix justament l'enunciat negat de Kelvin (és una transformació íntegra de calor en treball), que era justament el que volíem veure.

Tasca 4. Calculeu les Q_C , Q_F i W del Cicle de Carnot per T_F , T_C qualsevols. Demostreu que $\frac{Q_C}{Q_F} = \frac{T_C}{T_F} (= f(T_C, T_F))$



Pel Cicle de Carnot tenim:

$$\begin{cases} Q_C = \int_{V_A}^{V_B} P dV = \int_{V_A}^{V_B} \frac{nRT_C}{V} dV = nRT_C \log \left(\frac{V_B}{V_A} \right) \\ Q_F = - \int_{V_C}^{V_D} P dV = -nRT_F \log \left(\frac{V_D}{V_C} \right) \\ W = Q_C - Q_F \end{cases}$$

Com és un cicle de Carnot, i tenint en compte que estem considerant processos isotèrmics intercalats amb processos adiabàtics, donats V_A i V_B podem determinar V_C i V_D .

Per V_B tenim que $P_B = \frac{nRT_C}{V_B}$. Aleshores, si fem l'expansió adiabàtica amb PV^γ constant, $P_C V_C^\gamma = P_B V_B^\gamma$. I com volem arribar a T_F al punt C, $P_C V_C = nRT_F$. Juntant les dues darreres expressions obtenim que

$$V_C^{\gamma-1} = \frac{P_B V_B^\gamma}{nRT_F} \implies V_C = \left(\frac{P_B V_B^\gamma}{nRT_F} \right)^{\frac{1}{\gamma-1}} = \left(\frac{T_C V_B^{\gamma-1}}{T_F} \right)^{\frac{1}{\gamma-1}} = V_B \left(\frac{T_C}{T_F} \right)^{\frac{1}{\gamma-1}}$$

Si intercanviem els subíndexs B per A i els subíndexs C per D, obtenim el resultat anàleg:

$$V_D = V_A \left(\frac{T_C}{T_F} \right)^{\frac{1}{\gamma-1}}$$

Aleshores:

$$\frac{V_D}{V_C} = \frac{V_A}{V_B}$$

Substituïnt a l'equació per la Q_F obtenim:

$$Q_F = nRT_F \log \left(\frac{V_B}{V_A} \right)$$

I per tant, fent el quocient de Q_C i Q_F obtenim:

$$\frac{Q_C}{Q_F} = \frac{nRT_C \log \left(\frac{V_B}{V_A} \right)}{nRT_F \log \left(\frac{V_B}{V_A} \right)} = \frac{T_C}{T_F}$$

Tasca 5. Tenint en compte que:

$$\frac{\partial^2 S}{\partial V \partial T} = \frac{\partial^2 S}{\partial T \partial V} \quad (1)$$

$$\left(\frac{\partial S}{\partial V} \right)_T = \frac{1}{T} \left(\left(\frac{\partial U}{\partial V} \right)_T + P \right) \quad (2)$$

$$\left(\frac{\partial S}{\partial T} \right)_V = \frac{1}{T} \left(\frac{\partial U}{\partial T} \right)_V \quad (3)$$

Comproveu que:

$$\left(\frac{\partial U}{\partial V} \right)_T = T \left(\frac{\partial P}{\partial T} \right)_V - P \quad (4)$$

Apliquem $\left(\frac{\partial}{\partial T} \right)_V$ a (2) i $\left(\frac{\partial}{\partial V} \right)_T$ a (3). Obtenim:

$$\begin{cases} \frac{\partial^2 S}{\partial V \partial T} = \frac{1}{T} \left(\frac{\partial^2 U}{\partial V \partial T} + \left(\frac{\partial P}{\partial T} \right)_V \right) - \frac{1}{T^2} \left(\left(\frac{\partial U}{\partial V} \right)_T + P \right) \\ \frac{\partial^2 S}{\partial V \partial T} = \frac{1}{T} \frac{\partial^2 U}{\partial T \partial V} \end{cases}$$

Aleshores, per (1) (Teorema de Schwarz), igualant les anteriors expressions tenim:

$$\left(\frac{\partial U}{\partial V} \right)_T = T \left(\frac{\partial P}{\partial T} \right)_V - P$$

Tasca 6. Calculeu $C_P - C_V$ per l'equació de Van der Waals, partint de l'expressió (4) i sabent que:

$$C_P - C_V = \left(P + \left(\frac{\partial U}{\partial V} \right)_T \right) \left(\frac{\partial V}{\partial T} \right)_P \quad (5)$$

L'equació de Van der Waals és:

$$\left(P + \frac{a}{v^2} \right) (v - b) = RT$$

on $v = \frac{V}{n}$.

Sabem que:

$$\left(\frac{\partial U}{\partial V} \right)_T = T \left(\frac{\partial P}{\partial T} \right)_V - P = T \frac{R}{v-b} - \frac{RT}{v-b} + \frac{a}{v^2} = \frac{a}{v^2}$$

Ara calculem la derivada de V respecte T a pressió constant utilitzant la regla de la cadena d'Euler:

$$\left. \begin{aligned} \left(\frac{\partial V}{\partial T} \right)_P \left(\frac{\partial T}{\partial P} \right)_V \left(\frac{\partial P}{\partial V} \right)_T &= -1 \\ \left(\frac{\partial T}{\partial P} \right)_V &= \frac{v-b}{R} \\ \left(\frac{\partial P}{\partial V} \right)_T &= -\frac{RT}{n(v-b)^2} + \frac{2a}{nv^3} = -\frac{1}{n} \left(\frac{RT}{(v-b)^2} - \frac{2a}{v^3} \right) \end{aligned} \right\} \Rightarrow$$

$$\Rightarrow \left(\frac{\partial V}{\partial T} \right)_P = -\frac{1}{\left(\frac{\partial T}{\partial P} \right)_V \left(\frac{\partial P}{\partial V} \right)_T} = \frac{1}{\frac{v-b}{R} \frac{1}{n} \left(\frac{RT}{(v-b)^2} - \frac{2a}{v^3} \right)}$$

Finalment:

$$\begin{aligned} C_P - C_V &= \left(P + \left(\frac{\partial U}{\partial V} \right)_T \right) \left(\frac{\partial V}{\partial T} \right)_P = \left(P + \frac{a}{v^2} \right) \left(\frac{1}{\frac{v-b}{R} \frac{1}{n} \left(\frac{RT}{(v-b)^2} - \frac{2a}{v^3} \right)} \right) = \\ &= \frac{\frac{RT}{v-b}}{\frac{v-b}{R} \frac{1}{n} \left(\frac{RT}{(v-b)^2} - \frac{2a}{v^3} \right)} = \frac{R}{\frac{(v-b)^2}{RT} \frac{1}{n} \left(\frac{RT}{(v-b)^2} - \frac{2a}{v^3} \right)} = \frac{nR}{1 - \frac{2a(v-b)^2}{v^3 RT}} \end{aligned}$$

Tasca 7.**a) Demostreu:**

$$\left(\frac{\partial S}{\partial P}\right)_T = \frac{1}{T} \left[\left(\frac{\partial U}{\partial P}\right)_T + P \left(\frac{\partial V}{\partial P}\right)_T \right] \quad (6)$$

$$\left(\frac{\partial S}{\partial T}\right)_P = \frac{1}{T} \left[\left(\frac{\partial U}{\partial T}\right)_P + P \left(\frac{\partial V}{\partial T}\right)_P \right] \quad (7)$$

Indicació: Expresseu l'entropia en funció de P i T , i feu les substitucions adients tenint en compte que:

$$dS = \frac{dU + dV}{T} \quad (8)$$

b) A partir del Teorema de Schwarz

$$\frac{\partial}{\partial T} \left(\frac{\partial S}{\partial P}\right)_T = \frac{\partial}{\partial P} \left(\frac{\partial S}{\partial T}\right)_P$$

veieu que això implica que

$$\left(\frac{\partial S}{\partial T}\right)_P = - \left(\frac{\partial V}{\partial T}\right)_P \quad (9)$$

Fem les descomposicions de la diferencial exterior de $U(P, T)$ i la diferencial exterior de $V(P, T)$:

$$\begin{cases} dU = \left(\frac{\partial U}{\partial P}\right)_T dP + \left(\frac{\partial U}{\partial T}\right)_P dT \\ dV = \left(\frac{\partial V}{\partial P}\right)_T dP + \left(\frac{\partial V}{\partial T}\right)_P dT \end{cases}$$

Ara substituïm aquestes expressions a l'expressió (8), que s'ha derivat a partir del primer principi de la Termodinàmica:

$$\begin{aligned} dS &= \frac{1}{T} \left[\left(\frac{\partial U}{\partial P}\right)_T dP + \left(\frac{\partial U}{\partial T}\right)_P dT + P \left[\left(\frac{\partial V}{\partial P}\right)_T dP + \left(\frac{\partial V}{\partial T}\right)_P dT \right] \right] = \\ &= \frac{1}{T} \left[\left(\frac{\partial U}{\partial P}\right)_T + P \left(\frac{\partial V}{\partial P}\right)_T \right] dP + \frac{1}{T} \left[\left(\frac{\partial U}{\partial T}\right)_P + P \left(\frac{\partial V}{\partial T}\right)_P \right] dT \end{aligned}$$

Fem la descomposició de la diferencial exterior de $S(P, T)$:

$$dS = \left(\frac{\partial S}{\partial P}\right)_T dP + \left(\frac{\partial S}{\partial T}\right)_P dT$$

Si igualem per components les dues expressions anteriors arribarem a les igualtats (6) i (7) que buscàvem a l'apartat a.

$$\begin{aligned}
\frac{\partial}{\partial T} \left(\frac{\partial S}{\partial P} \right)_T &= \frac{\partial}{\partial T} \left\{ \frac{1}{T} \left[\left(\frac{\partial U}{\partial P} \right)_T + P \left(\frac{\partial V}{\partial P} \right)_T \right] \right\} = \\
&= -\frac{1}{T^2} \left[\left(\frac{\partial U}{\partial P} \right)_T + P \left(\frac{\partial V}{\partial P} \right)_T \right] + \frac{1}{T} \left[\frac{\partial^2 U}{\partial P \partial T} + P \frac{\partial^2 V}{\partial P \partial T} \right] = \\
\frac{\partial}{\partial P} \left(\frac{\partial S}{\partial T} \right)_P &= \frac{\partial}{\partial P} \left\{ \frac{1}{T} \left[\left(\frac{\partial U}{\partial T} \right)_P + P \left(\frac{\partial V}{\partial T} \right)_P \right] \right\} = \\
&= \frac{1}{T} \left[\frac{\partial^2 U}{\partial P \partial T} + \left(\frac{\partial V}{\partial T} \right)_P + P \frac{\partial^2 V}{\partial P \partial T} \right]
\end{aligned}$$

Aplicant el Teorema de Schwarz podem igualar ambdues expressions:

$$-\frac{1}{T^2} \left[\left(\frac{\partial U}{\partial P} \right)_T + P \left(\frac{\partial V}{\partial P} \right)_T \right] = \frac{1}{T} \left(\frac{\partial V}{\partial T} \right)_P \implies \left(\frac{\partial U}{\partial P} \right)_T + P \left(\frac{\partial V}{\partial P} \right)_T = -T \left(\frac{\partial V}{\partial T} \right)_P$$

Substituint aquesta expressió a (6) obtenim finalment:

$$\left(\frac{\partial S}{\partial P} \right)_T = \frac{-T}{T} \left(\frac{\partial V}{\partial T} \right)_P = - \left(\frac{\partial V}{\partial T} \right)_P$$

Tasca 8. Investigueu pel vostre compte si $K_T \rightarrow 0$ en el límit $T \rightarrow 0$.

Utilitzarem el resultat (9) de la tasca 7.b) per demostrar que aquest límit és cert.

$$K_T = -\frac{1}{V} \left(\frac{\partial V}{\partial P} \right)_T = \frac{1}{V} \frac{\left(\frac{\partial V}{\partial T} \right)_P}{\left(\frac{\partial P}{\partial T} \right)_V} = -\frac{1}{V} \frac{\left(\frac{\partial S}{\partial T} \right)_P}{\left(\frac{\partial P}{\partial T} \right)_V}$$

Ara calcularem la derivada parcial de l'entropia:

$$\left(\frac{\partial S}{\partial T} \right)_P = \frac{\partial}{\partial T} \left[C_V \cdot \log \left(\frac{T}{T_0} \right) + nR \log \left(\frac{v-b}{v_0-b} \right) + s_0 \right] = \frac{C_V}{T}$$

Finalment,

$$K_T = -\frac{1}{VT \left(\frac{\partial P}{\partial T} \right)_V}$$

que divergeix quan $T \rightarrow 0$.

Tasca 9.

a) Calculeu l'equació d'estat a partir de $\frac{1}{T} = \left(\frac{\partial S}{\partial U} \right)_V$ i demostreu que és

$$U = \frac{V}{1 + e^{\frac{1}{k_B T}}}$$

$$S(U, V) = VK_B \left[\log \left(\frac{1}{1 - f(U, V)} \right) + f(U, V) \log \left(\frac{1 - f(U, V)}{f(U, V)} \right) \right]$$

on $f(U, V) := \frac{U}{V}$.

$$\begin{aligned}
\frac{1}{T} &= VK_B \left[\frac{1}{1-f(U,V)} \partial_U f(U,V) + \partial_U f(U,V) \log \left(\frac{1-f(U,V)}{f(U,V)} \right) + \dots \right. \\
&\quad \left. \dots - f(U,V) \partial_U f(U,V) \frac{1}{1-f(U,V)} - f(U,V) \partial_U f(U,V) \frac{1}{f(U,V)} \right] = \\
&= K_B \left[\frac{1}{1-f(U,V)} + \log \left(\frac{1-f(U,V)}{f(U,V)} \right) - f(U,V) \frac{1}{1-f(U,V)} - f(U,V) \frac{1}{f(U,V)} \right] = \\
&= K_B \left[\frac{1}{1-\frac{U}{V}} + \log \left(\frac{1-\frac{U}{V}}{\frac{U}{V}} \right) - \frac{U}{V} \frac{1}{1-\frac{U}{V}} - \frac{U}{V} \frac{1}{\frac{U}{V}} \right] = \\
&= K_B \left[\frac{V}{V-U} + \log \left(\frac{V}{U} - 1 \right) - \frac{U}{V-U} - 1 \right] = K_B \left[\log \left(\frac{V}{U} - 1 \right) \right] \Rightarrow \\
&\Rightarrow \frac{1}{K_B T} = \log \left(\frac{V}{U} - 1 \right) \Rightarrow \frac{V}{U} - 1 = e^{\frac{1}{K_B T}} \Rightarrow \\
&\Rightarrow \frac{V}{U} = 1 + e^{\frac{1}{K_B T}} \Rightarrow U = \frac{V}{1 + e^{\frac{1}{K_B T}}}
\end{aligned}$$

b) Calculeu P a partir de l'expressió $P = T \left(\frac{\partial S}{\partial V} \right)_U$

$$\begin{aligned}
S(U,V) &= VK_B \left[\log \left(\frac{1}{1-f(U,V)} \right) + f(U,V) \log \left(\frac{1-f(U,V)}{f(U,V)} \right) \right] \Rightarrow \\
\frac{P}{K_B T} &= V \left[\frac{1}{1-f(U,V)} \partial_V f(U,V) + \partial_V f(U,V) \log \left(\frac{1-f(U,V)}{f(U,V)} \right) + \dots \right. \\
&\quad \left. \dots - f(U,V) \partial_V f(U,V) \frac{1}{1-f(U,V)} - f(U,V) \partial_V f(U,V) \frac{1}{f(U,V)} \right] + \dots \\
&\quad \dots + \log \left(\frac{1}{1-f(U,V)} \right) + f(U,V) \log \left(\frac{1-f(U,V)}{f(U,V)} \right) = \\
&= V \left[\frac{1}{1-\frac{U}{V}} \left(-\frac{U}{V^2} \right) + \left(-\frac{U}{V^2} \right) \log \left(\frac{1-\frac{U}{V}}{\frac{U}{V}} \right) - \frac{U}{V} \left(-\frac{U}{V^2} \right) \frac{1}{1-\frac{U}{V}} - \frac{U}{V} \left(-\frac{U}{V^2} \right) \frac{1}{\frac{U}{V}} \right] + \dots \\
&\quad \dots + \log \left(\frac{1}{1-\frac{U}{V}} \right) + \frac{U}{V} \log \left(\frac{1-\frac{U}{V}}{\frac{U}{V}} \right) = \\
&= -\frac{U}{V} \left[\frac{1}{1-\frac{U}{V}} + \log \left(\frac{1-\frac{U}{V}}{\frac{U}{V}} \right) - \frac{U}{V} \frac{1}{1-\frac{U}{V}} - \frac{U}{V} \frac{1}{\frac{U}{V}} \right] + \log \left(\frac{1}{1-\frac{U}{V}} \right) + \frac{U}{V} \log \left(\frac{1-\frac{U}{V}}{\frac{U}{V}} \right) = \\
&= -\frac{U}{V} \left[\frac{V}{V-U} + \log \left(\frac{\frac{V-U}{V}}{\frac{U}{V}} \right) - \frac{U}{V} \frac{V}{V-U} - 1 \right] + \log \left(\frac{V}{V-U} \right) + \frac{U}{V} \log \left(\frac{\frac{V-U}{V}}{\frac{U}{V}} \right) = \\
&= -\frac{U}{V} \left[\frac{V}{V-U} + \log \left(\frac{V}{U} - 1 \right) - \frac{U}{V-U} - 1 \right] + \log \left(\frac{V}{V-U} \right) + \frac{U}{V} \log \left(\frac{V}{U} - 1 \right) = \\
&= -\frac{U}{V} \log \left(\frac{V}{U} - 1 \right) + \log \left(\frac{V}{V-U} \right) + \frac{U}{V} \log \left(\frac{V}{U} - 1 \right) = \log \left(\frac{V}{V-U} \right) \Rightarrow
\end{aligned}$$

$$\Rightarrow P = K_B T \log \left(\frac{V}{V-U} \right)$$

c) Calculeu K_T a partir de l'expressió $K_T = -\frac{1}{V} \left(\frac{\partial V}{\partial P} \right)_T$

d) Calculeu μ a partir de l'expressió $\mu = - \left(\frac{\partial T}{\partial V} \right)_U$

De l'apartat a), tenim:

$$T = \frac{1}{K_B \log \left(\frac{V}{U} - 1 \right)}$$

D'on podem calcular el coeficient de Joule:

$$\mu = - \left(\frac{\partial T}{\partial V} \right)_U = \frac{1}{K_B \left(\log \left(\frac{V}{U} - 1 \right) \right)^2 (V-U)}$$

e) Calculeu C_v a partir de l'expressió $C_v = \frac{dQ}{dT} = \left(\frac{\partial U}{\partial T} \right)_V$

Derivant el resultat final de l'apartat a) obtenim:

$$C_v = - \frac{V}{K_B T^2} \frac{e^{\frac{1}{K_B T}}}{\left(1 + e^{\frac{1}{K_B T}} \right)^2}$$

f) Calculeu C_p a partir de l'expressió $C_p = \frac{dQ}{dT} = \left(\frac{\partial U}{\partial T} \right)_P + P \left(\frac{\partial V}{\partial T} \right)_P$

g) Calculeu $C_p - C_v$ i comprou que és major que 0.

h) Demostreu que

$$\lim_{T \rightarrow 0} S(U, V), C_v, C_p = 0$$

és a dir, que es satisfà el tercer principi de la Termodinàmica.

$$\begin{aligned} S(U, V) &= K_B V \left[\log \left(\frac{V}{V-U} \right) + \frac{U}{V} \log \left(\frac{V-U}{U} \right) \right] = \\ &= K_B V \left[\log \left(\frac{V}{V - \frac{V}{1+e^{\frac{1}{K_B T}}}} \right) + \frac{1}{1+e^{\frac{1}{K_B T}}} \log \left(\frac{U \left(1+e^{\frac{1}{K_B T}} \right) - U}{U} \right) \right] = \\ &= K_B V \left[\log \left(\frac{1}{1 - \frac{1}{1+e^{\frac{1}{K_B T}}}} \right) + \frac{1}{1+e^{\frac{1}{K_B T}}} \frac{1}{K_B T} \right] = \\ &= V \left[K_B \left(\log(1) - \log \left(1 - \frac{1}{1+e^{\frac{1}{K_B T}}} \right) \right) + \frac{T^{-1}}{1+e^{\frac{1}{K_B T}}} \right] = \\ &= V \left[-K_B \log \left(\frac{1+e^{\frac{1}{K_B T}} - 1}{1+e^{\frac{1}{K_B T}}} \right) + \frac{T^{-1}}{1+e^{\frac{1}{K_B T}}} \right] = \end{aligned}$$

$$= V \left[-K_B \log \left(\frac{e^{\frac{1}{K_B T}}}{1 + e^{\frac{1}{K_B T}}} \right) + \frac{T^{-1}}{1 + e^{\frac{1}{K_B T}}} \right]$$

Definim ara el canvi de variables $\lambda := T^{-1}$ per treballar amb un límit tendint a l'infinit, que és més còmode de manipular que si tendeix a 0. Aleshores:

$$\lim_{T \rightarrow 0} S(T) = \lim_{\lambda \rightarrow \infty} S(\lambda) = \lim_{\lambda \rightarrow \infty} V \left[-K_B \log \left(\frac{e^{\frac{\lambda}{K_B}}}{1 + e^{\frac{\lambda}{K_B}}} \right) + \frac{\lambda}{1 + e^{\frac{\lambda}{K_B}}} \right]$$

Com que es compleix que el volum és un valor fitat en un entorn obert de $T = 0$, que l'exponencial és un infinit d'ordre superior que qualsevol polinomi i que l'exponencial sumada a una constant és un infinit del mateix ordre que l'exponencial, obtenim que el resultat del límit és:

$$\lim_{\lambda \rightarrow \infty} S(\lambda) = 0 \implies \lim_{T \rightarrow 0} S(T) = 0$$

En el cas de C_V hem de fer el mateix canvi de variables, fet que ens fa obtenir la següent expressió:

$$C_V = -\frac{V\lambda^2}{K_B} \frac{e^{\frac{\lambda}{K_B}}}{\left(1 + e^{\frac{\lambda}{K_B}}\right)^2}$$

Aleshores, calculem el següent límit:

$$\lim_{\lambda \rightarrow \infty} \frac{\lambda^2}{e^{\frac{\lambda}{K_B}}} = 0$$

on hem usat de nou el fet que l'exponencial és un infinit d'ordre superior a un polinomi.

Ara manipularem aquest límit usant de nou el fet que l'exponencial sumada a una constant és un infinit del mateix ordre que l'exponencial i que el volum està fitat en un entorn del 0, per veure que és el mateix límit que el que volíem calcular:

$$\begin{aligned} 0 &= \lim_{\lambda \rightarrow \infty} \frac{\lambda^2}{e^{\frac{\lambda}{K_B}}} = \lim_{\lambda \rightarrow \infty} \frac{\lambda^2 e^{\frac{\lambda}{K_B}}}{\left(e^{\frac{\lambda}{K_B}}\right)^2} = \lim_{\lambda \rightarrow \infty} \frac{\lambda^2 e^{\frac{\lambda}{K_B}}}{\left(e^{\frac{\lambda}{K_B}}\right)^2} = \lim_{\lambda \rightarrow \infty} \frac{\lambda^2 e^{\frac{\lambda}{K_B}}}{\left(1 + e^{\frac{\lambda}{K_B}}\right)^2} = \\ &= \lim_{\lambda \rightarrow \infty} \frac{V\lambda^2 e^{\frac{\lambda}{K_B}}}{K_B \left(1 + e^{\frac{\lambda}{K_B}}\right)^2} = \lim_{\lambda \rightarrow \infty} C_V = \lim_{T \rightarrow 0} C_V \end{aligned}$$

Tasca 10. Evaleu l'expressió

$$\frac{\partial G_{total}}{\partial x_s} = 0$$

Si definim $g_s := u_s - Ts_s + \frac{P}{\rho_s}$ (energia lliure de Gibbs específica) i $g_l := u_l - Ts_l + \frac{P}{\rho_l}$, proveu que la condició d'equilibri és

$$g_s = g_l$$

Evaluem l'expressió:

$$\begin{aligned} 0 = \frac{\partial G_{total}}{\partial x_s} &= M \partial_{x_s} \left[x_s(u_s - Ts_s) + (1 - x_s) \cdot (u_l - Ts_l) + P \left(\frac{x_s}{\rho_s} + \frac{1 - x_s}{\rho_l} \right) \right] = \\ &= M \left[u_s - Ts_s - u_l + Ts_l + P \left(\frac{1}{\rho_s} - \frac{1}{\rho_l} \right) \right] \Longleftrightarrow \\ &\Longleftrightarrow u_s - Ts_s + \frac{P}{\rho_s} = u_l - Ts_l + \frac{P}{\rho_l} \stackrel{(\text{def})}{\Longleftrightarrow} g_s = g_l \end{aligned}$$